

1. Przeczytaj tekst w ramce i odpowiedz na pytania.

Jaki duży ogródek! Tyle tu roślin. Wojtek i Marek dbają o ogródek. Wojtek kopie grządki, a Marek grabi ścieżki. Razem podlewają rośliny.

Kto dba o ogródek?

Jaki jest ogródek?

Co robi Wojtek?

Co podlewają chłopcy?

2. Do którego pojemnika wrzucisz makulaturę? Otocz pętlą odpowiedni rysunek.



3. Otocz pętlą rysunek, na którym przedstawiono niebezpieczne zjawisko w przyrodzie.



4. Zmierz długość strzałki i zapisz wynik pomiaru.



5. Napisz we właściwej kolejności nazwy dni tygodnia.

poniedziałek, _____, _____, _____,
_____ , _____ ,
czwartek, _____ , _____ , _____ , niedziela

6. Czy rysunek przedstawia dziecko odżywiające się zdrowo? Otocz pętlą wybraną odpowiedź.



TAK NIE

7. Kto najlepiej pomoże w sytuacjach, które przedstawiono na rysunkach? Połącz rysunek sytuacji z obrazkiem osoby, do której należy się wtedy zwrócić o pomoc.



8. Do podanych liczb dopisz liczby sąsiednie.

		4		

		9		

		15		

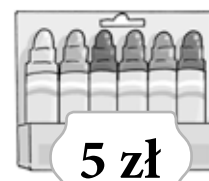
9. Maciek ma dwie monety pięciozłotowe. Oblicz, co może kupić za wszystkie pieniądze. Otocz pętlą rysunki wybranych zakupów.



6 zł



2 zł



5 zł



5 zł




3 zł



1 zł



4 zł



2 zł

1. Przeczytaj tekst w ramce i odpowiedz na pytania.

Jaki piękny ogród! Dużo tu kwiatów i krzewów. O ogród dbają Marek i Felek. Marek kopie grządki, a Felek grabi ścieżki. Potem razem podlewają konewką białe bratki. Po pracy chłopcy namalują swój ogród farbami na dużej kartce papieru.

Jaki jest ogród?

Kto dba o ogród?

Co robi Felek?

Czym podlewają kwiatki?

Co po pracy zrobią chłopcy?

2. Dzieci z klasy 1a chcą zbierać makulaturę, aby chronić przyrodę. Co powinny gromadzić? Podkreśl dwie właściwe odpowiedzi.


zużyte baterie

papierowe opakowania

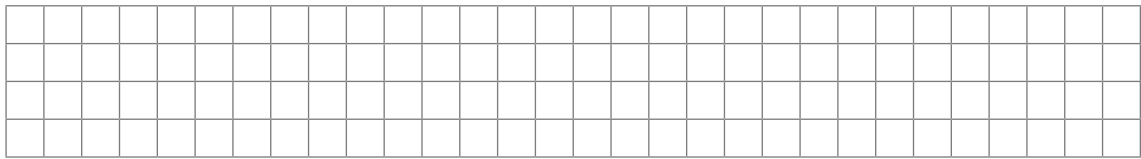
stare gazety

popsute plastikowe zabawki

3. Otocz pętlą rysunki, na których przedstawiono niebezpieczne zjawiska w przyrodzie.



4. Narysuj strzałkę o długości 8 cm.



5. Napisz nazwy dni tygodnia, w które chodzisz do szkoły.

6. Kuba chce się zdrowo odżywiać. Czego powinien unikać? Otocz pętlą wybraną odpowiedź.

Jedzenia **warzyw**.

Jedzenia **mięsa**.

Jedzenia **słodczy**.

7. Kto najlepiej pomoże w sytuacjach, które przedstawiono na rysunkach? Połącz rysunek sytuacji z nazwą zawodu osoby, do której należy się zwrócić o pomoc.



lekarz

policjant

strażak

8. Do podanych liczb dopisz liczby sąsiednie.

		7		

		13		

		18		

9. W skarbonce są trzy monety pokazane na rysunku. Oblicz, co można kupić za wszystkie pieniądze ze skarbonki. Otocz pętlą rysunki wybranych zakupów.

